

Recruitment of Sub-Inspector in Delhi Police, CAPFs and Assistant Sub-Inspector in CISF Examination, 2018

Roll No. :	
Registration No.	
Name :	
Exam Venue :	
Exam Time :	10:00 AM - 12:00 PM
Exam Date :	12/03/2019

Section : SI CPO

Q.1 निम्नलिखित चार अक्षर-समूहों में से तीन समूह किसी विशिष्ट सन्दर्भ में एक दूसरे के समान हैं और इनमें से एक असमान है। इनमें से असमान विकल्प का चयन कीजिए।

- Ans
- 1. TRVN
 - 2. CLEH
 - 3. PYRU
 - 4. MKOH

Question ID : 98958010091

Status : Answered

Chosen Option : 4

Q.2 निम्नलिखित श्रृंखला में प्रश्नवाचक चिह्न (?) के स्थान पर कौन-सा अक्षर-समूह आएगा?

BZD, DXF, GUI, ?, PLR

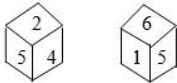
- Ans
- 1. MOQ
 - 2. KQM
 - 3. LRT
 - 4. KPN

Question ID : 98958010087

Status : Answered

Chosen Option : 2

Q.3 Two positions of the same dice are given. Which number will be at the top if '6' is at the bottom?



- Ans
- 1. 2
 - 2. 1
 - 3. 4
 - 4. 3

Question ID : 98958010125

Status : Answered

Chosen Option : 3

Q.4 निम्नलिखित श्रृंखला में आने वाली अगली आकृति का चयन कीजिये।

+○×△-	×△○-+	○-△+×	△+-×○
1	2	3	4

Ans

✗ 1. $-X + \Delta \circ$

✗ 2. $X + \circ - \Delta$

✗ 3. $- + X \Delta \circ$

✓ 4. $-X + \circ \Delta$

Question ID : 98958010123

Status : Not Answered

Chosen Option : --

Q.5 किन चिन्हों और संख्याओं को एक दूसरे के स्थान पर रखने से निम्नलिखित समीकरण सही होगा?

$$8 \div 2 - 6 \times 4 + 3 = 13$$

Ans ✗ 1. \div और $+$, 4 और 8

✗ 2. $-$ और $+$, 6 और 4

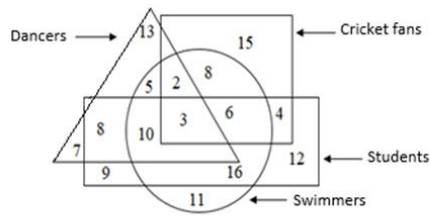
✗ 3. \times और $-$, 2 और 6

✓ 4. \times और \div , 8 और 6

Question ID : 98958010120

Status : Answered

Q.6 In the following diagram, the triangle represents 'dancers', the circle represents 'swimmers', the rectangle represents 'students' and the square represents 'cricket fans'. The numbers in different segments show the number of persons.



How many student dancers are swimmers but not cricket fans?

- Ans
- 1. 3
 - 2. 10
 - 3. 15
 - 4. 13

Question ID : 98958010135

Status : Answered

Chosen Option : 2

Q.7 नीचे दी गई आकृति के दायीं ओर दर्पण को रखने पर बनने वाले सही प्रतिबिम्ब का चयन कीजिए।



Ans

- 1.
- 2.
- 3.
- 4.

Question ID : 98958010129

Status : Answered

Chosen Option : 1

Q.8 निम्नलिखित समीकरणों को सही रूप से हल करने के लिए किन दो चिन्हों को एक-दूसरे के स्थान पर रखना होगा?

$$4 + 8 \times 12 \div 6 - 4 = 8$$

- Ans
- 1. - और +

✓ 2. + और ÷

✗ 3. ÷ और -

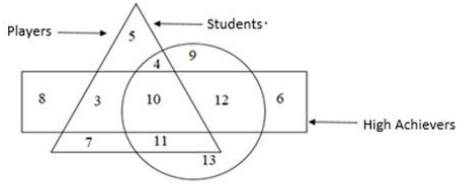
✗ 4. × और +

Question ID : 98958010118

Status : Answered

Chosen Option : 2

Q.9 In the following diagram, the triangle represents 'players', the circle represents 'students' and the rectangle represents 'high achievers'. The numbers in different segments show the number of persons.



How many high-achieving students are not players?

Ans ✗ 1. 13

✓ 2. 12

✗ 3. 3

✗ 4. 15

Question ID : 98958010134

Status : Answered

Chosen Option : 2

Q.1 निम्नलिखित चार अक्षर-समूहों में से तीन समूह किसी विशिष्ट सन्दर्भ में एक दूसरे के समान हैं और इनमें से एक असमान है। इनमें से असमान विकल्प का चयन कीजिए।

Ans ✗ 1. दर्जी

✓ 2. बागवानी

✗ 3. लुहार

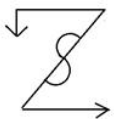
✗ 4. बढ़ई

Question ID : 98958010093

Status : Answered

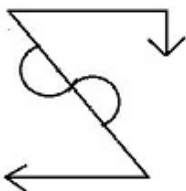
Chosen Option : 2

Q.1 नीचे दी गई आकृति के दायीं ओर दर्पण को रखने पर बनने वाले सही प्रतिबिम्ब का चयन कीजिए।




Ans

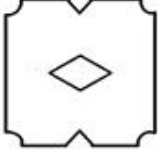
✗ 1.



✗ 3.



✓ 4.



Question ID : 98958010130

Status : Answered

Chosen Option : 4

Q.1 दो कथनों के आगे तीन निष्कर्ष I, II और III दिए गये हैं। इन कथनों को सत्य मानते हुए, भले ही वे सामान्य रूप से जात तथ्यों से भिन्न क्यों न प्रतीत हों, यह निर्णय लीजिए कि कौन-से निष्कर्ष दिए गये कथनों से तर्कसंगत रूप से अनुसरण करता है / करते हैं।

कथन :

कुछ पौधे पेड़ हैं।

सभी पेड़ झाड़ियाँ हैं।

निष्कर्ष :

I. कुछ झाड़ियाँ पौधे हैं।

II. सभी झाड़ियाँ पौधे हैं।

III. कोई भी झाड़ी पौधा नहीं है।

Ans

✗ 1. केवल निष्कर्ष I और III अनुसरण करता है।

✗ 2. केवल निष्कर्ष III अनुसरण करता है।

✓ 3. केवल निष्कर्ष I अनुसरण करता है।

✗ 4. केवल निष्कर्ष II और III अनुसरण करता है।

Question ID : 98958010105

Status : Answered

Chosen Option : 3

Q.1 उस विकल्प का चयन कीजिए जिसके शब्द-युग्म के बीच वही सम्बन्ध है जो संबंध निम्नलिखित शब्द-युग्म के बीच है।

अनुरोध : आदेश

Ans

✗ 1. गर्मी : ताप

✗ 2. सोचना : चिंतन

✗ 3. स्वच्छ : धोना

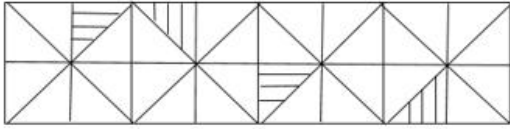
✓ 4. फुसफुसाना : चिल्लाना

Question ID : 98958010096

Status : Answered

Chosen Option : 4

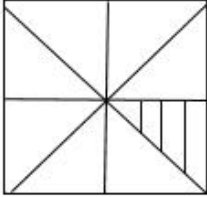
Q.1 निम्नलिखित आकृति श्रृंखला में आने वाली अगली आकृति का चयन कीजिए।



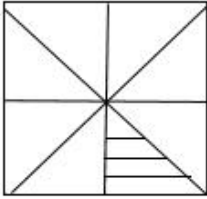
1 2 3 4

Ans

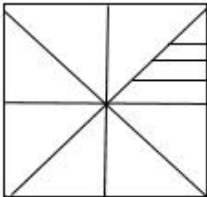
✗ 1.



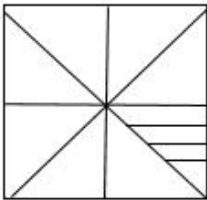
✗ 2.



✗ 3.



✓ 4.



Question ID : 98958010121

Status : Answered

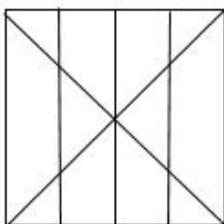
Chosen Option : 4

Q.1 उस विकल्प का चयन कीजिए जिसमें नीचे दी हुई आकृति छिपी हुई है।

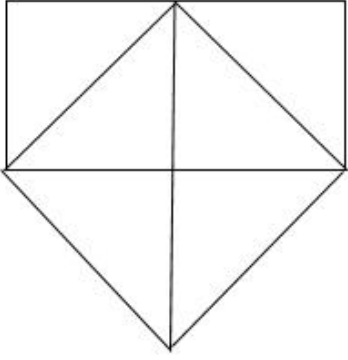


Ans

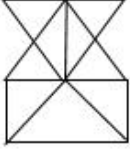
✗ 1.



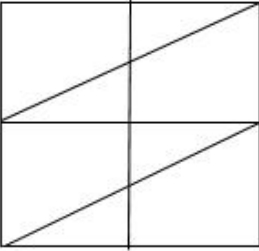
✗ 2.



✗ 3.



✓ 4.



Question ID : 98958010126

Status : Answered

Chosen Option : 4

Q.1 निम्नलिखित चार संख्यात्मक-युग्मों में से तीन युग्म किसी विशिष्ट सन्दर्भ में एक-दूसरे के समरूप हैं और इनमें से एक भिन्न है। इनमें से भिन्न विकल्प का चयन कीजिए।

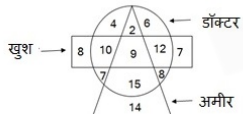
- Ans
- ✗ 1. 6 : 18
 - ✗ 2. 8 : 32
 - ✗ 3. 12 : 72
 - ✓ 4. 14 : 94

Question ID : 98958010114

Status : Answered

Chosen Option : 4

Q.1 नीचे दिए गए आरेख में, त्रिकोण 'अमीर' को, वृत्त 'डॉक्टर' को और आयत 'खुश' व्यक्तियों को दर्शाता है। विभिन्न खण्डों में दी गई संख्या व्यक्तियों की संख्या को दर्शाती है।



ऐसे कितने अमीर डॉक्टर हैं जो खुश नहीं हैं?

- Ans
- ✗ 1. 9
 - ✓ 2. 17
 - ✗ 3. 26
 - ✗ 4. 15

Question ID : 98958010133
Status : Answered
Chosen Option : 2

Q.2 निम्नलिखित चार संख्यात्मक-युग्मों में से तीन युग्म किसी विशिष्ट सन्दर्भ में एक-दूसरे के समरूप हैं और इनमें से एक भिन्न है। इनमें से भिन्न विकल्प का चयन कीजिए।

- Ans
- 1. 5 : 15
 - 2. 14 : 33
 - 3. 8 : 25
 - 4. 9 : 23

Question ID : 98958010112
Status : Answered
Chosen Option : 1

Q.2 निम्न में से कौन-सा विकल्प नीचे दिए गए शब्दों के तर्कसंगत और अर्थपूर्ण क्रम को दर्शाता है।

1. परिवीक्षा
2. चयन
3. आवेदन
4. स्थायीकरण
5. नियुक्ति

- Ans
- 1. 4, 1, 3, 2, 5
 - 2. 3, 2, 5, 4, 1
 - 3. 3, 2, 5, 1, 4
 - 4. 5, 1, 4, 2, 3

Question ID : 98958010088
Status : Answered
Chosen Option : 3

Q.2 दिए विकल्पों में से उस संख्या-समूह का चयन कीजिए जो निम्नलिखित संख्या-समूह के समरूप है।

{15, 21, 27}

- Ans
- 1. {12, 24, 32}
 - 2. {25, 40, 56}
 - 3. {40, 55, 75}
 - 4. {20, 28, 36}

Question ID : 98958010117
Status : Answered
Chosen Option : 4

Q.2 निम्नलिखित श्रृंखला में प्रश्नवाचक चिह्न (?) के स्थान पर कौन-सा अक्षर आएगा?

M, N, O, L, Q, J, ?, H

- Ans 1. S
 2. J
 3. R
 4. K

Question ID : 98958010086
Status : Answered
Chosen Option : 1

Q.2 निम्नलिखित संख्या-युग्म की दोनों संख्याएं जिस प्रकार एक-दूसरे से सम्बंधित हैं, उसी प्रकार का संबंध रखने वाले संख्या-युग्म का चयन कीजिए।

5 : 9

- Ans 1. 25 : 79
 2. 10 : 29
 3. 12 : 33
 4. 17 : 65

Question ID : 98958010111
Status : Answered
Chosen Option : 4

Q.2 उस विकल्प का चयन कीजिए जिसमें शब्द-युग्म के बीच वही सम्बन्ध है जो निम्नलिखित शब्द-युग्म के बीच है।

याद्वाश्त : विस्मरण

- Ans 1. वृद्धावस्था : बुढ़ापा
 2. स्वर परीक्षण : श्रवण
 3. दृष्टि : दृष्टिहीनता
 4. हैजा : महामारी

Question ID : 98958010097
Status : Answered
Chosen Option : 3

Q.2 यदि किसी कूट भाषा में HECK को 94410 और DIG को 588 लिखा गया है, तो उसी कूट भाषा में BIKE को क्या लिखा जायेगा?

- Ans 1. 38115
 2. 39105
 3. 19113
 4. 38124

Question ID : 98958010103
Status : Answered
Chosen Option : 4

Q.2 जिस प्रकार 'मंगलवार' का संबंध 'मंगल' से, उसी प्रकार सम्बन्ध 'गुरुवार' का ' _____ ' से है।

- Ans
- 1. शुक्र
 - 2. शनि
 - 3. बुध
 - 4. बृहस्पति

Question ID : 98958010095
Status : Answered
Chosen Option : 4

Q.2 दो कथनों के आगे तीन निष्कर्ष I, II और III दिए गये हैं। इन कथनों को सत्य मानते हुए, भले ही वे सामान्य रूप से 8 जात तथ्यों से भिन्न क्यों न प्रतीत हों, यह निर्णय लीजिए कि कौन-से निष्कर्ष दिए गये कथनों से तर्कसंगत रूप से अनुसरण करता है / करते हैं।

कथन :

कुछ आम फल हैं।
कोई भी फल सब्जी नहीं है।

निष्कर्ष :

- I. कुछ आम सब्जियां हैं।
- II. कुछ फल आम हैं।
- III. कोई भी सब्जी आम नहीं है।

- Ans
- 1. केवल निष्कर्ष I और III अनुसरण करता है।
 - 2. केवल निष्कर्ष I अनुसरण करता है।
 - 3. केवल निष्कर्ष II अनुसरण करता है।
 - 4. केवल निष्कर्ष II और III अनुसरण करता है।

Question ID : 98958010104
Status : Answered
Chosen Option : 4

Q.2 निम्नलिखित चार संख्यात्मक-युग्मों में से तीन युग्म किसी विशिष्ट सन्दर्भ में एक-दूसरे के समरूप हैं और इनमें से 9 एक भिन्न है। इनमें से भिन्न विकल्प का चयन कीजिए।

- Ans
- 1. 56 : 11
 - 2. 78 : 13
 - 3. 18 : 9
 - 4. 34 : 7

Question ID : 98958010115
Status : Answered
Chosen Option : 2

Q.3 दिए गए विकल्पों में से उस संख्या-समूह का चयन कीजिए जो निम्नलिखित संख्या-समूह की तरह समान है।

{7, 13, 20}

Ans

✗ 1. {10, 18, 24}

✓ 2. {4, 10, 17}

✗ 3. {12, 19, 29}

✗ 4. {9, 15, 23}

Question ID : 98958010116

Status : Answered

Chosen Option : 2

Q.3 जब प्रिया की स्कूल बस स्कूल पहुंची तो उस वक्त बस का मुख उत्तर-पश्चिम दिशा की ओर था। उसके घर से शुरुआत करने के बाद स्कूल पहुंचने के लिए बस एक बार बायीं ओर मुड़ी, फिर एक बार दायीं ओर मुड़ी और फिर एक बार बायीं ओर मुड़ी। जब वह बस प्रिया के घर से निकली थी तो बस का मुख किस ओर था?

Ans

✓ 1. उत्तर-पूर्व

✗ 2. उत्तर-पश्चिम

✗ 3. दक्षिण-पश्चिम

✗ 4. दक्षिण-पूर्व

Question ID : 98958010131

Status : Answered

Chosen Option : 1

Q.3 Select the correct alternative to indicate the arrangement of the following words in a logical and meaningful order.

2

1. Sleep
2. Cold
3. Blanket
4. Winter
5. Warm
6. Shop

Ans

✓ 1. 4, 2, 6, 3, 5, 1

✗ 2. 4, 3, 6, 2, 1, 5

✗ 3. 4, 3, 2, 6, 1, 5

✗ 4. 6, 3, 2, 1, 4, 5

Question ID : 98958010089

Status : Answered

Chosen Option : 1

Q.3 निम्नलिखित श्रृंखला में प्रश्न चिह्न (?) को कौन-सी संख्या प्रतिस्थापित करेगी?

7, 10, 16, 19, 25, ?

Ans

✗ 1. 33

✗ 2. 31

✓ 3. 28

✗ 4. 29

Question ID : 98958010106

Status : Answered

Chosen Option : 3

Q.3
4 निम्नलिखित श्रृंखला में प्रश्न चिह्न (?) को कौन-सा भिन्न प्रतिस्थापित करेगा?

$$\frac{1}{4}, \frac{3}{5}, \frac{6}{7}, \frac{10}{11}, ?$$

Ans 1. $\frac{15}{23}$

2. $\frac{15}{19}$

3. $\frac{17}{27}$

4. $\frac{17}{21}$

Question ID : 98958010107

Status : Answered

Chosen Option : 2

Q.3
5 नीचे दी गई संख्याओं में जिस प्रकार दूसरी संख्या पहली संख्या से सम्बंधित है उसी प्रकार तीसरी संख्या से सम्बंधित विकल्प का चयन कीजिए।

$$8 : 81 :: 10 : \underline{\hspace{2cm}}$$

Ans 1. 111

2. 100

3. 120

4. 121

Question ID : 98958010109

Status : Answered

Chosen Option : 4

Q.3
6 यदि CAB = 12 और FED = 30 है, तो HIDE = _____

Ans 1. 52

2. 68

3. 48

4. 44

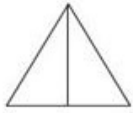
Question ID : 98958010102

Status : Answered

Chosen Option : 1

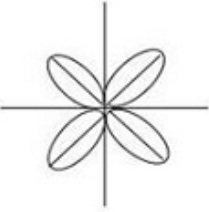
Q.3
7

उस विकल्प का चयन कीजिए जिसमें नीचे दी हुई आकृति छिपी हुई है।

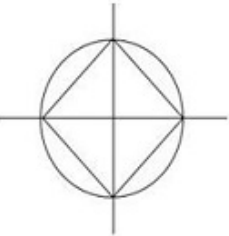


Ans

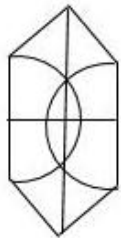
✗ 1.



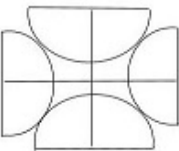
✓ 2.



✗ 3.



✗ 4.

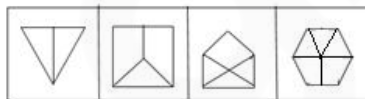


Question ID : 98958010127

Status : Answered

Chosen Option : 2

Q.3 निम्नलिखित आकृति श्रृंखला में आने वाली अगली आकृति का चयन कीजिए।



1

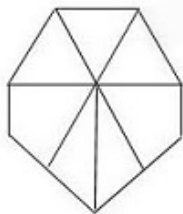
2

3

4

Ans

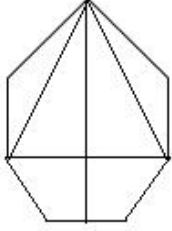
✗ 1.



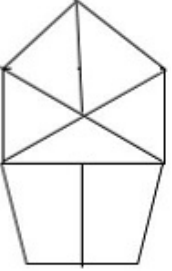
✗ 2.



✓ 3.



✗ 4.



Question ID : 98958010122

Status : Answered

Chosen Option : 3

Q.3 जिस प्रकार 'मांस' का संबंध 'शाकाहारी' से उसी प्रकार 'मदिरा' का ' _____ ' से है।

Ans

✗ 1. धूम्रपान करने वाला

✗ 2. आहारविद्

✓ 3. मदयत्यागी

✗ 4. पानी

Question ID : 98958010094

Status : Answered

Chosen Option : 3

Q.4 निम्नलिखित चार शब्दों में से तीन शब्द किसी विशिष्ट सन्दर्भ में एक दूसरे के समान हैं और इनमें से एक असमान है। इनमें से असमान विकल्प का चयन कीजिए।

Ans

✓ 1. रोना

✗ 2. क्रोधित

✗ 3. ईर्ष्या

✗ 4. उदास

Question ID : 98958010092

Status : Answered

Chosen Option : 3

अपने घर से निकलकर समीरा कुछ मीटर तक पूर्व दिशा की ओर चली। वहां से वह दायीं ओर मुड़ी और 100 m चली और फिर वह बायीं ओर मुड़ी और 30 m चली। अंत में एक बार फिर वह बायीं ओर मुड़ी और बाज़ार पहुँचने के लिए 40 m चली। यदि उसके घर और बाज़ार के बीच की हवाई दूरी 100 m है, तो समीरा अपने घर से प्रारम्भ में कितनी दूर पूर्व की ओर चली?

- Ans
- 1. 80 m
 - 2. 60 m
 - 3. 30 m
 - 4. 50 m

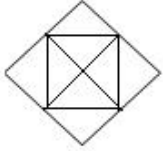
Question ID : 98958010132
Status : Not Answered
Chosen Option : --

Q.4
2 किसी कूट भाषा में BANKER को NABREK लिखा जाता है तो उसी कूट भाषा में STRING को कैसे लिखा जायेगा?

- Ans
- 1. RTGSNI
 - 2. TSIRGN
 - 3. RSTGIN
 - 4. RTSGNI

Question ID : 98958010100
Status : Answered
Chosen Option : 4

Q.4
3 नीचे दी गई आकृति में कितने त्रिकोण हैं?



- Ans
- 1. 10
 - 2. 14
 - 3. 12
 - 4. 8

Question ID : 98958010124
Status : Answered
Chosen Option : 3

Q.4
4 निम्नलिखित चार संख्यात्मक-युग्मों में से तीन युग्म किसी विशिष्ट सन्दर्भ में एक-दूसरे के समरूप हैं और इनमें से एक भिन्न है। इनमें से भिन्न विकल्प का चयन कीजिए।

- Ans
- 1. 5 : 26
 - 2. 4 : 17
 - 3. 10 : 99
 - 4. 9 : 82

Question ID : 98958010113
Status : Answered

Chosen Option : 3

Q.4 नीचे दी गई संख्याओं में जिस प्रकार दूसरी संख्या पहली संख्या से सम्बंधित है उसी प्रकार तीसरी संख्या से सम्बंधित विकल्प का चयन कीजिए।

15 : 25 :: 24 : _____

- Ans
- 1. 40
 - 2. 45
 - 3. 35
 - 4. 32

Question ID : 98958010110

Status : Answered

Chosen Option : 2

Q.4 जिस प्रकार नीचे दिए गए अक्षरों के समूह में दूसरा अक्षर समूह पहले अक्षर समूह से सम्बंधित है, उसी प्रकार तीसरे अक्षर समूह से सम्बंधित विकल्प का चयन कीजिए।

BDFH : DWDS :: TVYZ : _____

- Ans
- 1. VEBB
 - 2. UDWA
 - 3. VDWB
 - 4. VEWA

Question ID : 98958010099

Status : Answered

Chosen Option : 4

Q.4 निम्नलिखित श्रृंखला में प्रश्न चिह्न (?) को कौन-सी संख्या प्रतिस्थापित करेगी?

3, 5, 7, 8, 15, ?, 31, 26

- Ans
- 1. 24
 - 2. 21
 - 3. 14
 - 4. 18

Question ID : 98958010108

Status : Answered

Chosen Option : 3

Q.4 निम्नलिखित चार अक्षर-समूहों में से तीन समूह किसी विशिष्ट सन्दर्भ में एक दूसरे के समान हैं और इनमें से एक असमान है। इनमें से असमान विकल्प का चयन कीजिए।

- Ans
- 1. ILOU
 - 2. EIOU
 - 3. AIOU
 - 4. AEIU

Question ID : 98958010090

Status : Answered
Chosen Option : 2

Q.4 जिस प्रकार नीचे दिए गए अक्षरों के समूह में दूसरा अक्षर समूह पहले अक्षर समूह से सम्बंधित है, उसी प्रकार तीसरे
9 अक्षर समूह से सम्बंधित विकल्प का चयन कीजिए।

BYWD : DWUF :: AZYB : _____

- Ans
- 1. CXWD
 - 2. BYWE
 - 3. CXVB
 - 4. BZXC

Question ID : 98958010098
Status : Answered
Chosen Option : 1

Q.5 किसी कूट भाषा में QUESTION को OPJUTFVR लिखा जाता है तो उसी कूट भाषा में FACTOR को कैसे लिखा
0 जायेगा?

- Ans
- 1. QPUDBE
 - 2. SUPEGB
 - 3. SPUDBG
 - 4. BGDSPU

Question ID : 98958010101
Status : Answered
Chosen Option : 3

Q.5 फ़रवरी 2019 में संपन्न पहले प्रो वॉलीबॉल लीग का खिताब किस टीम ने जीता?
1

- Ans
- 1. कालीकट हीरोज़
 - 2. चेन्नई स्पार्टन्स
 - 3. ब्लैक हॉक हैदराबाद
 - 4. अहमदाबाद डिफेंडर्स

Question ID : 98958010204
Status : Answered
Chosen Option : 2

Q.5 भारत के संविधान के अनुच्छेद _____ में कहा गया है कि उच्च न्यायालय के न्यायाधीश को भारत के मुख्य
2 न्यायाधीश और राज्य के राज्यपाल के परामर्श से राष्ट्रपति द्वारा नियुक्त किया जाएगा।

- Ans
- 1. 72
 - 2. 201
 - 3. 217
 - 4. 21

Question ID : 98958010198
Status : Answered

Q.5
3 सुगौली संधि ब्रिटिश और _____ के बीच हुई थी।

- Ans
- 1. मराठा
 - 2. गोरखा
 - 3. बंगाल के नवाब
 - 4. अवध के नवाब

Question ID : 98958010220

Status : Not Answered

Chosen Option : --

Q.5
4 जनवरी 2019 में प्रधानमंत्री नरेंद्र मोदी ने दादरा और नगर हवेली में स्थित सिलवासा में कई परियोजनाओं का उद्घाटन और शिलान्यास किया। निम्न में से कौन सी परियोजना इनमें नहीं है?

- Ans
- 1. दादरा और नगर हवेली के लिए नई आइटी नीति
 - 2.
 - 3. दादरा और नगर हवेली में एक कला महाविद्यालय
 - 4. दादरा और नागर हवेली में एक मेडिकल कॉलेज

दादरा और नगर हवेली में डिजिटल रूप से घर-घर से अपशिष्ट एकत्रित करना और ठोस अपशिष्ट को अलग करके इन्हें प्रोसेस करना कूड़ा-कचरा एकत्रित करना

Question ID : 98958010192

Status : Answered

Chosen Option : 2

Q.5
5 जनवरी 2019 में माइक्रोसॉफ्ट इंडिया ने तेलंगाना में हथकरघा बुनकरों की सहायता के लिए 'री वीव' परियोजना के अंतर्गत 're-weave.in' नाम के नए ई-कॉमर्स प्लेटफॉर्म की शुरुआत की। निम्नलिखित में से कौन-सा लाभ ई-कॉमर्स प्लेटफॉर्म से नहीं मिलता है?

- Ans
- 1.
 - 2.
 - 3.
 - 4.
- यह कारीगरों को सीधे खरीददारों से जोड़ेगा जिससे वे नए ग्राहकों और बाजारों से जुड़ पाएँगे।
- यह बुनकर समुदायों द्वारा बनाए गए विशिष्ट कपड़ों के संग्रह को प्रदर्शित करेगा।
- इससे बुनकरों को अपनी आय बढ़ाने और एक स्थायी आजीविका कमाने में मदद मिलेगी।
- इससे भारत की भूली-बिसरी पारंपरिक कला को पुनर्जीवित करने की प्रक्रिया सुस्त हो जाएगी।

Question ID : 98958010226

Status : Answered

Chosen Option : 4

Q.5
6 भारत में स्वदेशी आंदोलन _____ के दौरान शुरू हुआ था।

- Ans
- 1. गांधीजी के चंपारण सत्याग्रह
 - 2. रॉलेट एक्ट का विरोध

✓ 3. बंगाल विभाजन विरोधी आंदोलन (बंग-भंग आंदोलन)

✗ 4. 1919-1922 का पहला असहयोग आंदोलन

Question ID : 98958010224

Status : Answered

Chosen Option : 3

Q.5
7 भारतीय निर्यात-आयात बैंक (एक्विज़म बैंक) के विषय में निम्नलिखित में से कौन-सा कथन सत्य नहीं है?

Ans ✓ 1.

भारतीय आयात-निर्यात बैंक अधिनियम के अंतर्गत वर्ष 2014 में स्थापना की गई थी।

✗ 2.

इसका मुख्य उद्देश्य भारतीय निर्यात को प्रोत्साहित करने के लिए वित्तीय सहायता प्रदान करना है।

✗ 3.

भारतीय कंपनियों के वैश्विक प्रयास में बैंक सहायता प्रदान करता है।

✗ 4. यह भारत की प्रमुख निर्यात वित्तीय संस्था है।

Question ID : 98958010193

Status : Answered

Chosen Option : 1

Q.5
8 दाचीगाम अभयारण्य कहाँ स्थित है?

Ans ✓ 1. जम्मू और कश्मीर

✗ 2. छत्तीसगढ़

✗ 3. असम

✗ 4. कर्नाटक

Question ID : 98958010218

Status : Not Answered

Chosen Option : --

Q.5
9 _____ is/are being considered an alternative to reduce the country's crude oil imports worth ₹7 lakh crore. It/They can also be a potential weapon to fight increasing pollution.

Ans ✓ 1. Biofuels

✗ 2. Phytoremediation

✗ 3. Air purifiers

✗ 4. Extractor fans

Question ID : 98958010199

Status : Answered

Chosen Option : 1

Q.6
0 मनुष्य के लिए ध्वनि की श्रव्य सीमा है:

Ans ✗ 1. 10 Hz से 100 kHz

- ✓ 2. 20 Hz से 20 kHz
- ✗ 3. 10 Hz से 10 kHz
- ✗ 4. 20 Hz से 200 kHz

Question ID : 98958010212
Status : Answered
Chosen Option : 2

Q.6
1 स्वामी दयानंद सरस्वती का पैतृक नाम क्या था?

- Ans
- ✓ 1. मूल शंकर
 - ✗ 2. ओम शंकर
 - ✗ 3. कृष्ण शंकर
 - ✗ 4. नारायण शंकर

Question ID : 98958010209
Status : Answered
Chosen Option : 1

Q.6
2 2018 में विश्व स्तर पर ट्रैक साइकिलिंग में देश का पहला पदक जीतकर भारतीय किशोर साइकिल चालक _____ ने इतिहास रचा।

- Ans
- ✗ 1. श्रीधर सावनूर
 - ✓ 2. एसो अल्बेन
 - ✗ 3. विक्रम सिंह
 - ✗ 4. दबोरा हेरोल्ड

Question ID : 98958010235
Status : Not Answered
Chosen Option : --

Q.6
3 _____ is the study of viruses.

- Ans
- ✗ 1. Parasitology
 - ✗ 2. Mycology
 - ✓ 3. Virology
 - ✗ 4. Protozoology

Question ID : 98958010233
Status : Answered
Chosen Option : 3

Q.6
4 एपिकल्चर वैज्ञानिक रूप से लकड़ी से बने बॉक्स में _____ का पालन पोषण करने की तकनीक है।

- Ans
- ✗ 1. रेशम के कीड़े

✓ 2. मधुमक्खी

✗ 3. दीमक

✗ 4. कीट

Question ID : 98958010227

Status : Answered

Chosen Option : 2

Q.6
5 प्रथम आंग्ल-सिक्ख युद्ध के दौरान भारत के गवर्नर जनरल कौन थे?

Ans ✗ 1. लॉर्ड डलहौजी

✗ 2. लॉर्ड कैनिंग

✓ 3. लॉर्ड हार्डिंग

✗ 4. लॉर्ड कार्नवालिस

Question ID : 98958010206

Status : Not Answered

Chosen Option : --

Q.6
6 _____ 18 वीं सदी में ओडिशा के जंगलों में एक आदिवासी नृत्य शैली के रूप में शुरू हुआ और इसने 19 वीं सदी में एक मार्शल आर्ट आधारित नृत्य शैली का दर्जा प्राप्त किया।

Ans ✗ 1. कलरीपायट्टु

✗ 2. छौबिया

✗ 3. बावई

✓ 4. छऊ

Question ID : 98958010222

Status : Not Answered

Chosen Option : --

Q.6
7 In January 2019, the Department of Science and Technology partnered with Doordarshan to launch two free-to-air channels DD Science and an Internet-based channel _____ which will offer live, scheduled play and video-on-demand on science topics.

Ans ✓ 1. India Science

✗ 2. India Technology

✗ 3. Internet Science

✗ 4. India Live

Question ID : 98958010208

Status : Answered

Chosen Option : 1

Q.6
8 अच्छी फसल की शुरुआत हो यह आशीर्वाद पाने के लिए किस राज्य के लोग 'त्सोकुम त्योहार' मनाते हैं?

Ans ✗ 1. असम

✗ 2. मेघालय

✓ 3. नागालैंड

✗ 4. मिजोरम

Question ID : 98958010225
Status : Not Answered
Chosen Option : --

Q.6
9 The sky appears blue due to:

Ans ✗ 1. Refraction of light

✗ 2. Reflection of light

✗ 3. Dispersion of light

✓ 4. Scattering of light

Question ID : 98958010205
Status : Answered
Chosen Option : 1

Q.7
0 चौसा की लड़ाई हुमायूँ और शेर शाह शुरी के बीच 26 जून _____ को हुई थी।

Ans ✗ 1. 1639

✗ 2. 1440

✗ 3. 1729

✓ 4. 1539

Question ID : 98958010230
Status : Answered
Chosen Option : 3

Q.7
1 निम्नलिखित में से किस अधिनियम के तहत भारत सरकार ने भारतीय दूरसंचार विनियामक प्राधिकरण (द्राई) की स्थापना की?

Ans ✗ 1. दूरसंचार विनियामक प्राधिकरण अधिनियम, 2003

✗ 2. दूरसंचार विनियामक प्राधिकरण अधिनियम, 2001

✗ 3. दूरसंचार विनियामक प्राधिकरण अधिनियम, 2005

✓ 4. दूरसंचार विनियामक प्राधिकरण अधिनियम, 1997

Question ID : 98958010202
Status : Not Answered
Chosen Option : --

Q.7
2 निम्नलिखित में से किस राज्य से बांग्लादेश की सीमा नहीं लगती है?

Ans ✗ 1. मेघालय

✗ 2. त्रिपुरा

✓ 3. मणिपुर

✗ 4. मिज़ोरम

Question ID : 98958010228

Status : Answered

Chosen Option : 1

Q.7 जीवजाति का उद्भव (ऑरीजिन ऑफ़ स्पीसिज़) पुस्तक किसने लिखी है?

Ans ✗ 1. कैरलस लिनिअस

✗ 2. विलियम पाले

✗ 3. इरस्मस डार्विन

✓ 4. चार्ल्स डार्विन

Question ID : 98958010219

Status : Answered

Chosen Option : 4

Q.7 जनवरी 2019 में भारतीय जनता पार्टी के किस नेता को सांसद के रूप में विशिष्ट कार्य प्रदर्शन करने के लिए 'संसद रत्न पुरस्कार' से सम्मानित किया गया?

Ans ✗ 1. राव इंद्रजीत सिंह

✗ 2. राजेश चुडासमा

✓ 3. अनुराग ठाकुर

✗ 4. वीरेंद्र कश्यप

Question ID : 98958010194

Status : Answered

Chosen Option : 4

Q.7 Why do water droplets always take a round shape when dropped onto plane surfaces?

Ans ✗ 1. Due to atmospheric pressure

✓ 2. Due to exersion of surface tension by the molecules

✗ 3. Due to gravity

✗ 4. Due to the presence of Eddy Currents in the air

Question ID : 98958010216

Status : Answered

Chosen Option : 2

Q.7 रउफ लोक नृत्य शैली _____ राज्य से संबंधित है।

Ans ✗ 1. पंजाब

✓ 2. जम्मू और कश्मीर

3. राजस्थान

4. हरियाणा

Question ID : 98958010221
Status : Answered
Chosen Option : 2

Q.7
7 The spectrum of light was first explained by _____.

- Ans
- 1. Neils Bohr
 - 2. Albert Einstein
 - 3. Galileo Galilei
 - 4. Isaac Newton

Question ID : 98958010201
Status : Answered
Chosen Option : 1

Q.7
8 In January 2019, the Competition Commission of India (CCI) approved a deal wherein Samara Capital-backed Witzig Advisory Services and Amazon will acquire _____, which operates a supermarket store chain called 'More'.

- Ans
- 1. Reliance Retail
 - 2. Godrej Consumer Products Ltd
 - 3. Aditya Birla Retail Ltd
 - 4. Future Group

Question ID : 98958010207
Status : Answered
Chosen Option : 3

Q.7
9 जवाहरलाल नेहरू विश्वविद्यालय की गीतांजलि कटलाम और सौम्या प्रसाद द्वारा किए गए अध्ययन व एशियन एडवेंचर्स के मोहित अगरवाल और नेचर साइंस इनीशिएटिव के रमन कुमार ने _____ के बीच का संबंध का परीक्षण किया जो जर्नल 'करंट साइंस' में प्रकाशित हुआ।

- Ans
- 1. जल की कमी और पशु
 - 2. पशु और वनस्पति जीवन
 - 3. भिन्न-भिन्न जानवरों की प्रजातियाँ और उनका भोजन
 - 4.

पशु वर्ग व व्यवहार के विषय में प्लास्टिक अंतर्ग्रहण से उत्पन्न खतरा

Question ID : 98958010188
Status : Not Answered
Chosen Option : --

Q.8
0 Pune-based organisation _____ conducted a study using a 15% M-15 methanol blend in vehicles and tested them for 3,000 km to evaluate emissions in real-world conditions as well as to check the performance of the vehicles.

- Ans
- 1. Vehicle Organisation of India (VOI)
 - 2. Automotive Research Association of India (ARAI)

3. Automotive Organisation (AO)
 4. Research Association of India (RAI)

Question ID : 98958010190
Status : Answered
Chosen Option : 2

Q.8
1 सितंबर 2018 में भारत के सर्वश्रेष्ठ धावक _____ को असम का खेल एम्बेसडर नियुक्त किया गया।

- Ans 1. आनंद शेटी
 2. हिमा दास
 3. जटा शंकर
 4. माखन सिंह

Question ID : 98958010234
Status : Not Answered
Chosen Option : --

Q.8
2 जनवरी 2019 में भारतीय वैज्ञानिक _____ को मटीरियल रिसर्च के लिए पहले शेख सऊद अंतर्राष्ट्रीय पुरस्कार से सम्मानित किया गया।

- Ans 1. विक्रम साराभाई
 2. एम. विश्वेश्वरैया
 3. चिंतामणि नागेश रामचंद्र राव
 4. मेघनाद साहा

Question ID : 98958010213
Status : Not Answered
Chosen Option : --

Q.8
3 गैर लाभकारी संस्था 'यूथ फ़ॉर इक्वैलिटी' _____ संवैधानिक संशोधन अधिनियम, जिसके अनुसार आर्थिक रूप से कमजोर वर्ग के लोगों को 10% का कोटा दिया जाता है इसकी संवैधानिक मान्यता पर प्रश्नचिह्न लगाते हुए उच्चतम न्यायालय में चली गई।

- Ans 1. 143वां
 2. 103वां
 3. 99वां
 4. 100वां

Question ID : 98958010189
Status : Not Answered
Chosen Option : --

Q.8
4 JLL सिटी मोमेंटम इंडेक्स 2019 के अनुसार, स्थापित 131 प्रमुख शहरों और उभरते व्यवसायिक केंद्र के रूप में _____ दुनिया का सबसे गतिशील शहर बनकर उभरा है।

- Ans 1. दिल्ली

2. चेन्नई
 3. बेंगलुरु
 4. हैदराबाद

Question ID : 98958010211
Status : Answered
Chosen Option : 4

Q.8 ' _____ ' का लक्ष्य डिस्ट्रिक्ट मिनरल फाउंडेशन (डीएमएफ) द्वारा उत्पन्न निधियों का उपयोग करके खनन संबंधी
5 कार्यों से प्रभावित क्षेत्रों एवं लोगों का कल्याण करना है।

- Ans 1. प्रधानमंत्री डिजीधन व्यापार योजना
 2. प्रधानमंत्री खनिज क्षेत्र कल्याण योजना
 3. प्रधानमंत्री कौशल विकास योजना
 4. प्रधानमंत्री उज्ज्वला योजना

Question ID : 98958010197
Status : Answered
Chosen Option : 2

Q.8 दादरा और नगर हवेली एक केंद्र शासित प्रदेश है जो महाराष्ट्र और _____ के बीच स्थित है।
6

- Ans 1. पश्चिम बंगाल
 2. आंध्र प्रदेश
 3. गुजरात
 4. उत्तराखंड

Question ID : 98958010195
Status : Answered
Chosen Option : 3

Q.8 The Hindu Prize 2018 for Fiction was awarded to _____, the English author of 'Requiem in Raga Janki' during the
7 The Hindu Lit for Life 2019.

- Ans 1. Vinayak Varma
 2. Rajiv Elipe
 3. Mamta Nainy
 4. Neelum Saran Gour

Question ID : 98958010187
Status : Not Answered
Chosen Option : --

Q.8 जनवरी 2019 में प्रधानमंत्री नरेंद्र मोदी की अध्यक्षता वाले केंद्रीय मंत्रिमंडल ने अपने व्यवसाय का विस्तार करने के
8 लिए राज्य के स्वामित्व वाली निर्यात-आयात बैंक ऑफ इंडिया (एनक्तिम बैंक) में ₹ _____ की पूंजी लगाने की मंजूरी दी है।

- Ans 1. 2,000 करोड़

✓ 2. 6,000 करोड़

✗ 3. 9,000 करोड़

✗ 4. 4,000 करोड़

Question ID : 98958010186

Status : Not Answered

Chosen Option : --

Q.8 जनवरी 2019 में तमिलनाडु के राज्यपाल बनवारीलाल पुरोहित ने 'संसद रत्न पुरस्कार' प्रदान किया। निम्नलिखित में से कौन से सांसद इस के प्राप्तकर्ता नहीं हैं?

Ans ✗ 1. एनके प्रेमचंद्रन

✗ 2. निशिकांत दुबे

✗ 3. सुप्रिया सुले

✓ 4. किरीट सोलंकी

Question ID : 98958010215

Status : Not Answered

Chosen Option : --

Q.9 The five kingdom concept of classification of organisms was given by:

Ans ✗ 1. Charles Darwin

✗ 2. Carl Woese

✗ 3. William Paley

✓ 4. Robert Whittaker

Question ID : 98958010231

Status : Answered

Chosen Option : 3

Q.9 _____ ने जनवरी 2019 में मुंबई में भारतीय सिनेमा के राष्ट्रीय संग्रहालय का उद्घाटन किया।

Ans ✗ 1. अमिताभ बच्चन

✗ 2. देवेंद्र फड़नवीस

✗ 3. राम नाथ कोविंद

✓ 4. नरेंद्र मोदी

Question ID : 98958010196

Status : Answered

Chosen Option : 2

Q.9 _____ दुनिया में सबसे कम उम्र के व्यक्ति बन गए हैं जिन्होंने सात सबसे ऊंची चोटियों और महाद्वीपों में ज्वालामुखी शिखर पर चढ़ाई की है।

Ans ✗ 1. राज सिंह धर्मशक्तु

2. संतोष यादव
 3. सत्यरूप सिद्धान्त
 4. मोहन सिंह

Question ID : 98958010214
Status : Not Answered
Chosen Option : --

Q.9 जनवरी 2019 में किस केंद्रीय मंत्रालय ने आम जनता को बजट प्रक्रिया के बारे में शिक्षित करने के लिए अपने ट्विटर हैंडल पर 'नो योर बजट' सीरीज शुरू की थी?

- Ans 1. वित्त
 2. मानव संसाधन विकास
 3. कॉरपोरेट कार्य मंत्रालय
 4. वाणिज्य और उद्योग

Question ID : 98958010203
Status : Not Answered
Chosen Option : --

Q.9 जनवरी 2019 से विज्ञान और प्रौद्योगिकी मंत्रालय का पोर्टफोलियो किसके पास है?

- Ans 1. प्रकाश जावड़ेकर
 2. पीयूष गोयल
 3. मनोहर पर्रिकर
 4. हर्षवर्धन

Question ID : 98958010200
Status : Answered
Chosen Option : 4

Q.9 Olfactory receptors are located in our:

- Ans 1. Nose
 2. Tongue
 3. Eyes
 4. Ears

Question ID : 98958010210
Status : Not Answered
Chosen Option : --

Q.9 निम्नलिखित में से सबसे छोटा केंद्र शासित प्रदेश कौन सा है?

- Ans 1. लक्षद्वीप

✘ 2. दादरा और नगर हवेली

✘ 3. पुदुचेरी

✘ 4. दमन और दीव

Question ID : 98958010223

Status : Not Answered

Chosen Option : --

Q.9 रानी नायकी देवी को उस महिला के रूप में याद किया जाता है जिन्होंने वर्ष 1178 में _____ को हराया था।

Ans

✘ 1. मोहम्मद बिन तुगलक़

✘ 2. अल- सलीह- मोहम्मद

✔ 3. मोहम्मद गोरी

✘ 4. मोहम्मद अल बकीर

Question ID : 98958010232

Status : Not Answered

Chosen Option : --

Q.9 नोबेल पुरस्कार हर साल 6 श्रेणियों में दिया जाता है। निम्नलिखित में से कौन-सी श्रेणी में यह नहीं दिया जाता है।

Ans

✘ 1. भौतिक विज्ञान

✘ 2. अर्थशास्त्र

✔ 3. गणित

✘ 4. साहित्य

Question ID : 98958010229

Status : Answered

Chosen Option : 3

Q.9 दिसंबर 2018 में दिल्ली में आयोजित राष्ट्रीय स्ववैश चैंपियनशिप में _____ ने महिला एकल का खिताब जीता।

Ans

✘ 1. सचिका बलवानी

✔ 2. जोशना चिनप्पा

✘ 3. भुवनेश्वरी कुमारी

✘ 4. अपराजिता बालमुरुकन

Question ID : 98958010217

Status : Not Answered

Chosen Option : --

Q.1 हिमाचल प्रदेश में व्यास नदी पर बने महाराणा प्रताप सागर जलाशय को _____ नाम से भी जाना जाता है।

Ans

✘ 1. टिहरी बाँध

2. धरोई बाँध

3. उकाई बाँध

4. पौंग बाँध

Question ID : 98958010191

Status : Not Answered

Chosen Option : --

Q.1 केंद्र O वाले एक वृत्त के बाहर किसी बिंदु P से खींची गई दो स्पर्श रेखाएँ PA और PB हैं। A और B वृत्त पर बिंदु
01 हैं। यदि $\angle APB = 40^\circ$, तो $\angle OAB$ बराबर होगा:

Ans 1. 50°

2. 20°

3. 40°

4. 25°

Question ID : 98958010320

Status : Answered

Chosen Option : 2

Q.1 $4\frac{4}{5} \div \frac{3}{7}$ of $7 + \frac{4}{5} \times \frac{3}{10} - \frac{1}{5}$ is equal to:
02

Ans 1. $\frac{7}{5}$

2. $\frac{34}{25}$

3. $\frac{41}{25}$

4. $\frac{8}{5}$

Question ID : 98958010290

Status : Answered

Chosen Option : 3

Q.1 एक परीक्षा में 54% विद्यार्थी विज्ञान में उत्तीर्ण हुए और 42% विद्यार्थी गणित में अनुत्तीर्ण हुए। यदि 32%
03 विद्यार्थी दोनों विषयों में अनुत्तीर्ण हुए तो कितने प्रतिशत विद्यार्थी दोनों विषयों में उत्तीर्ण हुए?

Ans 1. 32%

2. 48%

3. 56%

4. 44%

Question ID : 98958010299

Status : Answered

Chosen Option : 4

Q.1 चीनी के मूल्य में 15% की कमी हुई। कोई व्यक्ति खपत में कितने प्रतिशत की वृद्धि करे ताकि व्यय में कोई परिवर्तन
04 न हो?

Ans

1. $\frac{300}{23}\%$

2. $\frac{20}{3}\%$

3. $\frac{50}{3}\%$

4. $\frac{300}{17}\%$

Question ID : 98958010298

Status : Answered

Chosen Option : 4

Q.1 05 यदि $x + \frac{1}{x} = 5$, तो $x^3 + \frac{1}{x^3}$ निम्नलिखित में से किसके बराबर होगा:

Ans 1. 110

2. 130

3. 145

4. 125

Question ID : 98958010316

Status : Answered

Chosen Option : 1

Q.1 06 पाइप A और B क्रमशः 6 घंटे और 9 घंटे में एक टैंक भर सकते हैं और पाइप C, 12 घंटे में पूरा टैंक खाली कर सकता है। यदि टैंक खाली होने पर तीनों पाइप एक साथ खोले जाते हैं तो टैंक का 35% भाग कितने घंटे में भर जाएगा?

Ans 1. 1.5

2. 1.8

3. 1.6

4. 1.9

Question ID : 98958010307

Status : Answered

Chosen Option : 2

Q.1 07 ABCD एक चक्रीय चतुर्भुज है जिसमें AB इस पर बने वृत्त का व्यास है। कोण $ADC = 140^\circ$ है तो कोण BAC का मान होगा:

Ans 1. 50°

2. 40°

3. 60°

4. 38°

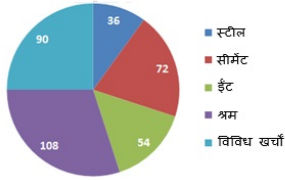
Question ID : 98958010319

Status : Answered

Chosen Option : 1

Q.1
08

अलग-अलग खर्च में लागत की डिग्री (संपूर्ण ₹ 4,50,000)



दिए गए पाई चार्ट (pie-chart) में स्टील, सीमेंट और ईंटों पर कुल व्यय की तुलना में श्रम और विविध खर्चों पर कुल व्यय का अनुपात क्या है?

- Ans
- 1. 4 : 5
 - 2. 9 : 11
 - 3. 3 : 5
 - 4. 3 : 7

Question ID : 98958010332

Status : Answered

Chosen Option : 2

Q.1 यदि $\Delta ABC \sim \Delta PQR$, $\frac{\text{ar}(\Delta ABC)}{\text{ar}(\Delta PQR)} = \frac{9}{4}$, AC = 12 सेमी, AB = 18 सेमी तथा BC = 15 सेमी, तो PR बराबर है:

- Ans
- 1. 12 सेमी
 - 2. 8 सेमी
 - 3. 10 सेमी
 - 4. $\frac{20}{3}$ सेमी

Question ID : 98958010322

Status : Answered

Chosen Option : 3

Q.1 ₹ 20,000 की राशि को 15 महीने के लिए 10% प्रति वर्ष की दर से अर्धवार्षिक संयोजित चक्रवृद्धि ब्याज पर निवेश किया जाता है। 15 महीने के अंत में प्रतिशत लाभ (दशमलव के एक अंक तक) क्या होगा?

- Ans
- 1. 13.0%
 - 2. 12.5%
 - 3. 13.4%
 - 4. 13.6%

Question ID : 98958010304

Status : Not Answered

Chosen Option : --

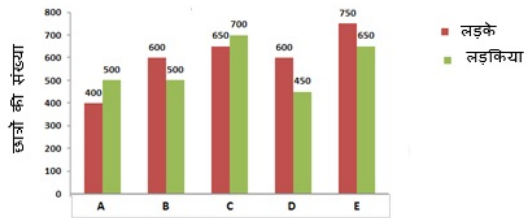
Q.1 5 cubes, each of edge 4 cm, are joined end to end. What is the total surface area of the resulting cuboid?

11

- Ans
- 1. 526 cm²
 - 2. 486 cm²
 - 3. 720 cm²
 - 4. 352 cm²

Q.1
12

कॉलेज में लड़कों और लड़कियों की संख्या A, B, C, D और E



दिए गए बार ग्राफ (bar graph) में, लड़कों और लड़कियों का प्रतिशत अंतर किस कॉलेज में (उस कॉलेज के कुल छात्रों की संख्या को आधार मानकर) सर्वाधिक है?

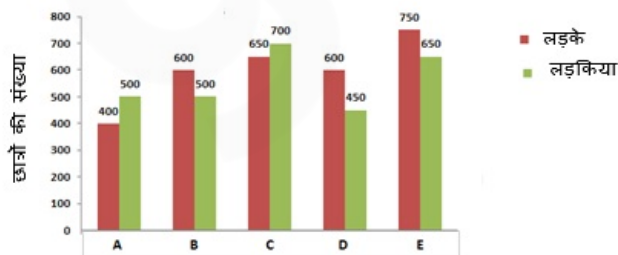
- Ans
- 1. B
 - 2. E
 - 3. D
 - 4. A

Q.1
13 $\frac{\sin^2 24^\circ + \sin^2 66^\circ}{\cos^2 24^\circ + \cos^2 66^\circ} + \sin^2 61^\circ + \cos 61^\circ \sin 29^\circ$ का मान निम्नलिखित में से किसके बराबर है:

- Ans
- 1. 1
 - 2. 3
 - 3. 2
 - 4. 0

Q.1
14

कॉलेज में लड़कों और लड़कियों की संख्या A, B, C, D और E



दिए गए बार ग्राफ में सभी कॉलेजों में लड़कियों की संख्या का औसत क्या है?

- Ans
- 1. 600
 - 2. 560
 - 3. 540

✗ 4. 550

Question ID : 98958010329

Status : Answered

Chosen Option : 2

Q.1 ₹ 15,000 की राशि को आंशिक रूप से 12% प्रति वर्ष और शेष राशि को 10% प्रति वर्ष साधारण ब्याज की दर से 15 निवेश किया जाता है। यदि 2 वर्ष के अंत में कुल ब्याज ₹ 3,344 है तो 10% प्रति वर्ष की दर पर कितनी राशि निवेश की गई थी?

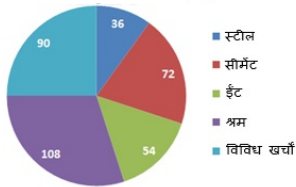
- Ans
- ✗ 1. ₹ 6,600
 - ✓ 2. ₹ 6,400
 - ✗ 3. ₹ 6,500
 - ✗ 4. ₹ 6,200

Question ID : 98958010303

Status : Answered

Chosen Option : 2

Q.1 अलग-अलग खर्च में लागत की डिग्री (संपूर्ण ₹ 4,50,000)
16



दिए गए पाई चार्ट (pie-chart) में, स्टील पर किया गया व्यय, सीमेंट पर किए गए व्यय का कितना प्रतिशत है?

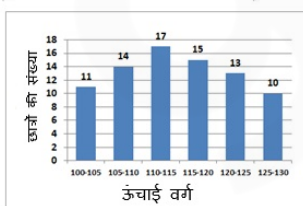
- Ans
- ✗ 1. 55%
 - ✗ 2. 45%
 - ✗ 3. 40%
 - ✓ 4. 50%

Question ID : 98958010331

Status : Answered

Chosen Option : 4

Q.1
17



दिए गए आयतचित्र (Histogram) में, कितने प्रतिशत विद्यार्थियों की ऊंचाई 105-110 के अंतराल में आएगी?

- Ans
- ✗ 1. 18%
 - ✗ 2. 17%
 - ✓ 3. 17.5%
 - ✗ 4. 16.5%

Question ID : 98958010333

Status : Answered

Chosen Option : 3

Q.1 18 एक त्रिभुज की भुजाएँ 10 सेमी, 24 सेमी और 26 सेमी हैं। इसके प्रत्येक कोने पर 3.5 सेमी त्रिज्या के वृत्त खींचे जाते हैं। वृत्त के क्षेत्रों द्वारा घेरे गए हिस्से को छोड़कर त्रिभुज का क्षेत्रफल क्या होगा? ($\pi = \frac{22}{7}$)

- Ans
- 1. 75.75 सेमी²
 - 2. 78.25 सेमी²
 - 3. 100.75 सेमी²
 - 4. 81.5 सेमी²

Question ID : 98958010312

Status : Answered

Chosen Option : 3

Q.1 19 यदि $\tan x = \cot (45^\circ + 2x)$, तो x का मान क्या होगा?

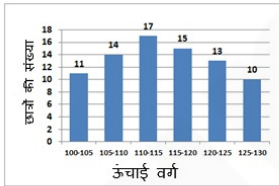
- Ans
- 1. 45°
 - 2. 20°
 - 3. $\frac{45^\circ}{2}$
 - 4. 15°

Question ID : 98958010323

Status : Answered

Chosen Option : 4

Q.1
20



दिए गए आयतचित्र (Histogram) में, विद्यार्थियों की माध्यिका ऊँचाई (median height) किस ऊँचाई-वर्ग में आती है?

- Ans
- 1. 110-115
 - 2. 105-110
 - 3. 120-125
 - 4. 115-120

Question ID : 98958010334

Status : Answered

Chosen Option : 1

Q.1 21 A, B और C की कार्य-क्षमता का अनुपात 4 : 5 : 6 है। एक साथ काम करते हुए वे एक काम को 12 दिनों में पूरा कर सकते हैं। A उस काम को अकेले कितने दिनों में पूरा कर पाएगा?

- Ans
- 1. 40

✗ 2. 30

✗ 3. 36

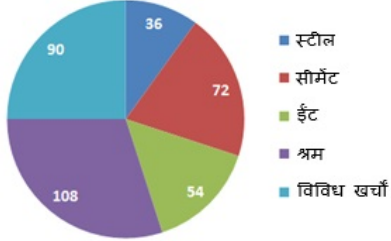
✓ 4. 45

Question ID : 98958010306

Status : Answered

Chosen Option : 4

Q.1 22 अलग-अलग खर्च में लागत की डिग्री (संपूर्ण ₹ 4,50,000)



दिए गए पाइ चार्ट (pie-chart) में, श्रम शुल्क पर कुल व्यय (प्रतिशत में) कितना है?

Ans ✗ 1. 20%

✗ 2. 25%

✗ 3. 18%

✓ 4. 30%

Question ID : 98958010330

Status : Answered

Chosen Option : 4

Q.1 23 उस छोटी से छोटी संख्या के अंकों का योग क्या है जिसे 15, 18 तथा 24 से विभाजित करने पर प्रत्येक दशा में शेषफल 8 बचता है और जो 13 से विभाज्य है?

Ans ✗ 1. 15

✗ 2. 16

✓ 3. 17

✗ 4. 18

Question ID : 98958010289

Status : Answered

Chosen Option : 4

Q.1 24 यदि $a^3 - b^3 = 208$ तथा $a - b = 4$, तो $(a + b)^2 - ab$ निम्नलिखित में से किसके बराबर होगा:

Ans ✓ 1. 52

✗ 2. 38

✗ 3. 42

✗ 4. 32

Question ID : 98958010317

Status : Answered

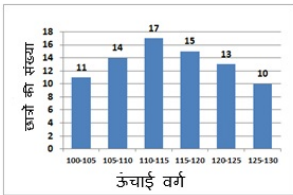
Chosen Option : 1

Q.1 6 सेमी त्रिज्या वाले एक गोले को पिघलाकर 2 सेमी त्रिज्या वाले गोले बनाए जाते हैं। इस प्रकार के कितने गोले बनाए जा सकते हैं?

- Ans
- 1. 24
 - 2. 27
 - 3. 25
 - 4. 36

Question ID : 98958010314
Status : Answered
Chosen Option : 2

Q.1
26



दिए गए आयतचित्र (Histogram) में, सभी विद्यार्थियों की औसत ऊंचाई (दशमलव के एक अंक तक) कितनी है?

- Ans
- 1. 116.8 सेमी
 - 2. 114.7 सेमी
 - 3. 116.2 सेमी
 - 4. 115.6 सेमी

Question ID : 98958010335
Status : Not Answered
Chosen Option : --

Q.1 एक समचतुर्भुज की भुजा 5 सेमी और इसका एक विकर्ण 8 सेमी है। समचतुर्भुज का क्षेत्रफल क्या है?

- Ans
- 1. 40 सेमी²
 - 2. 24 सेमी²
 - 3. 30 सेमी²
 - 4. 20 सेमी²

Question ID : 98958010311
Status : Answered
Chosen Option : 2

Q.1 एक दुकानदार अपने सामान की कीमत इस प्रकार अंकित करता है कि 25% की छूट देने के बाद उसे 20% का लाभ मिलता है। यदि किसी वस्तु का क्रयमूल्य ₹ 460 है तो इसका अंकित मूल्य निम्नलिखित में से क्या होगा?

- Ans
- 1. ₹ 725
 - 2. ₹ 752
 - 3. ₹ 748
 - 4. ₹ 736

Question ID : 98958010295

Status : Answered

Chosen Option : 4

Q.1 A, B और C ने क्रमशः ₹ 55,000, ₹ 65,000 और ₹ 75,000 का निवेश करके एक व्यवसाय शुरू किया। A एक
29 कार्यशील साझेदार है और लाभ का 20% कार्यचालन भत्ता प्राप्त करता है। शेष लाभ को निवेश के अनुपात में वितरित किया जाता है। यदि कुल लाभ ₹ 87,750 है, तो A का हिस्सा क्या होगा?

- Ans
- 1. ₹ 37,350
 - 2. ₹ 27,000
 - 3. ₹ 23,000
 - 4. ₹ 37,500

Question ID : 98958010302

Status : Answered

Chosen Option : 1

Q.1 दो संख्याएँ 4 : 5 के अनुपात में हैं। यदि उनका महत्तम समापवर्तक (HCF) 16 है, तो इन दोनों संख्याओं का योग होगा:
30

- Ans
- 1. 124
 - 2. 150
 - 3. 144
 - 4. 160

Question ID : 98958010288

Status : Answered

Chosen Option : 3

Q.1 $\frac{675 \times 675 \times 675 + 325 \times 325 \times 325}{67.5 \times 67.5 + 32.5 \times 32.5 - 67.5 \times 32.5}$ निम्नलिखित में से किसके बराबर है:
31

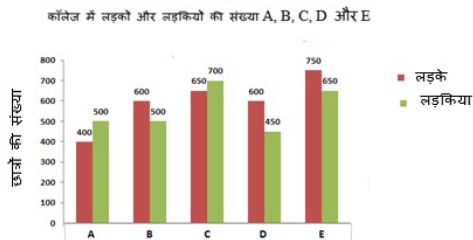
- Ans
- 1. 1,000
 - 2. 10,000
 - 3. 1,00,000
 - 4. 100

Question ID : 98958010292

Status : Answered

Chosen Option : 3

Q.1 कॉलेज में लड़कों और लड़कियों की संख्या A, B, C, D और E
32



दिए गए बार ग्राफ (bar graph) में, सभी 5 कॉलेजों में कुल लड़के और लड़कियों का अनुपात क्या है?

- Ans 1. 15 : 14
 2. 14 : 15
 3. 13 : 12
 4. 12 : 13

Question ID : 98958010327
Status : Answered
Chosen Option : 1

Q.1 $9\frac{3}{4} \div [2\frac{1}{6} + \{4\frac{1}{3} - (2\frac{1}{2} + \frac{3}{4})\}]$ निम्नलिखित में से किसके बराबर है:

- Ans 1. $\frac{15}{4}$
 2. 3
 3. 4
 4. $\frac{17}{4}$

Question ID : 98958010291
Status : Answered
Chosen Option : 2

Q.1 एक नाव 2 घंटे 27 मिनट में धारा की दिशा में 30 किमी और धारा की दिशा के विपरीत 24 किमी जा सकती है। साथ ही यह 74 मिनट में धारा की दिशा में 20 किमी और धारा के विपरीत 8 किमी जा सकती है। शांत जल में नाव की गति (किमी/घंटे) क्या होगी?

- Ans 1. 24
 2. 20
 3. 22
 4. 18

Question ID : 98958010310
Status : Not Answered
Chosen Option : --

Q.1 यदि $(x-5)^3 + (x-6)^3 + (x-7)^3 = 3(x-5)(x-6)(x-7)$, तो x का मान क्या होगा?

- Ans 1. 18
 2. 7
 3. 6
 4. 5

Question ID : 98958010318
Status : Answered
Chosen Option : 3

Q.1 10.8 और 4.8 के बीच माध्य आनुपातिक (mean proportional) तथा 2 और 4 के तृतीय आनुपातिक का योगफल कितना होगा?

Ans

✓ 1. 15.2

✗ 2. 8.2

✗ 3. 10.2

✗ 4. 11.2

Question ID : 98958010301

Status : Answered

Chosen Option : 1

Q.1 दीवार के सहारे लगी हुई एक सीढ़ी, भूमि से क्षैतिज α कोण इस प्रकार बनाती है कि $\tan \alpha = \frac{3}{4}$ यदि सीढ़ी के पांव
37 दीवार से 5 मीटर दूर हैं तो सीढ़ी की लंबाई क्या होगी?

Ans ✗ 1. 5.25 मी

✓ 2. 6.25 मी

✗ 3. 4.5 मी

✗ 4. 3.75 मी

Question ID : 98958010325

Status : Answered

Chosen Option : 2

Q.1 यदि कोई ट्रेन 60 किमी/घंटे की गति से चलती है तो वह अपने लक्ष्य पर 15 मिनट देरी से पहुंचती है। लेकिन, अगर
38 यह 80 किमी/घंटे की गति से चलती है तो यह केवल 7 मिनट की देरी से पहुंचती है। ट्रेन को अपनी यात्रा पूरी करने में सही-सही कितना समय लगेगा?

Ans ✗ 1. 21 मिनट

✗ 2. 18 मिनट

✓ 3. 17 मिनट

✗ 4. 20 मिनट

Question ID : 98958010309

Status : Answered

Chosen Option : 3

Q.1 20%, 10% तथा 15% क्रमिक बढ़े के समतुल्य एकल बढ़ा क्या होगा?
39

Ans ✗ 1. 42.2 %

✓ 2. 38.8 %

✗ 3. 43.5 %

✗ 4. 44.5 %

Question ID : 98958010296

Status : Answered

Chosen Option : 4

Q.1 एक दुकानदार ने अपनी दो वस्तुओं में से प्रत्येक को ₹ 9471 की दर से बेच दिया। एक पर उसे 23% का लाभ हुआ
40 और दूसरे पर उसे 23% की हानि हुई। उसे कुल कितने प्रतिशत लाभ या हानि हुई होगी?

Ans ✓ 1. 5.29% हानि

✗ 2. 6.29% लाभ

✗ 3. 6.29% हानि

✗ 4. 5.29% लाभ

Question ID : 98958010300

Status : Answered

Chosen Option : 3

Q.1 यदि A की आय, B की आय से 40% अधिक है तो B की आय, A की आय से कितने प्रतिशत कम है?
41

Ans ✗ 1. $27\frac{5}{7}\%$

✓ 2. $28\frac{4}{7}\%$

✗ 3. $28\frac{5}{7}\%$

✗ 4. $27\frac{4}{7}\%$

Question ID : 98958010297

Status : Answered

Chosen Option : 2

Q.1 प्रतिदिन 8 घंटे काम करते हुए, 24 व्यक्ति, एक कार्य की 2 इकाइयों को 10 दिनों में पूरा कर सकते हैं। 16 दिनों तक प्रतिदिन 6 घंटे काम करते हुए उस कार्य की 4 इकाइयों को पूरा करने के लिए कितने व्यक्तियों की आवश्यकता होगी?
42

Ans ✗ 1. 32

✗ 2. 36

✓ 3. 40

✗ 4. 48

Question ID : 98958010305

Status : Answered

Chosen Option : 3

Q.1 16 संख्याओं का औसत 48 है। प्रथम 7 संख्याओं का औसत 45 है और अगली 6 संख्याओं का औसत 52 है। अगर 14वीं संख्या, 15वीं संख्या से 11 कम है और 16वीं संख्या से 5 अधिक है तो 15वीं और 16वीं संख्या का औसत क्या होगा?
43

Ans ✗ 1. 47.5

✗ 2. 49

✗ 3. 48.5

✓ 4. 48

Question ID : 98958010294

Status : Not Answered

Chosen Option : --

Q.1 दो पाइप A और B क्रमशः 6 घंटे और 9 घंटे में एक टैंक भर सकते हैं। पहले पाइप A से शुरू करके वे बारी-बारी से 1 घंटे के लिए खोले जाते हैं। टैंक कितने घंटे में भर जाएगा?
44

Ans

1. 6
 2. 7
 3. 5
 4. 4

Question ID : 98958010308
Status : Answered
Chosen Option : 2

Q.1 45 छह अंकों की संख्या $4x4y96$ यदि 88 से विभाज्य है, तो $(x + 2y)$ का मान क्या होगा?

- Ans 1. 13
 2. 12
 3. 10
 4. 11

Question ID : 98958010287
Status : Not Answered
Chosen Option : --

Q.1 46 50 विद्यार्थियों की एक कक्षा में 40% लड़कियां हैं। लड़कों का औसत वजन 62 kg है और लड़कियों का औसत वजन 58 kg है। पूरी कक्षा का औसत वजन (kg में) क्या है?

- Ans 1. 60.8
 2. 60.6
 3. 60.2
 4. 60.4

Question ID : 98958010293
Status : Not Answered
Chosen Option : --

Q.1 47 एक बेलन की विज्या 150 सेमी बढ़ा दी जाती है और इसकी ऊंचाई 20 सेमी कम कर दी जाती है। इसके आयतन में कितने प्रतिशत वृद्धि होगी?

- Ans 1. 600%
 2. 80%
 3. 500%
 4. 400%

Question ID : 98958010315
Status : Not Answered
Chosen Option : --

Q.1 48 निम्नलिखित में से किसका वर्गमूल एक परिमेय संख्या है?

- Ans 1. 5768.28
 2. 1354.24
 3. 1250.49

X 4. 6250.49

Question ID : 98958010286

Status : Not Answered

Chosen Option : --

Q.1 ΔABC में, $\angle A = 50^\circ$ है। इसकी भुजाएँ AB और AC बिंदु D और E तक बढ़ाई जाती हैं। यदि $\angle CBD$ और $\angle BCE$ के समद्विभाजक बिंदु O पर मिलते हैं, तो $\angle BOC$ बराबर होगा:

- Ans
- 1. 65°
 - 2. 55°
 - 3. 40°
 - 4. 75°

Question ID : 98958010321

Status : Not Answered

Chosen Option : --

Q.1 10 मी ऊंची एक इमारत की छत से एक टॉवर के शीर्ष का उन्नयन कोण 60° तथा टॉवर के निचला हिस्से का अवनयन कोण θ है, जैसे $\tan \theta = \frac{2}{3}$ है। टॉवर की ऊंचाई (निकटतम) मीटरों में कितनी है?

- Ans
- 1. 33 मी
 - 2. 35 मी
 - 3. 36 मी
 - 4. 34 मी

Question ID : 98958010326

Status : Not Answered

Chosen Option : --

Q.1 Select the synonym of the given word.

- AMPLIFY
- Ans
- 1. satisfy
 - 2. electrify
 - 3. supply
 - 4. magnify

Question ID : 98958010409

Status : Answered

Chosen Option : 4

Q.1 Select the word, which means the same as the group of words given.

A fortress typically one on high ground above a city

- Ans
- 1. palace
 - 2. colossus

3. tower

4. citadel

Question ID : 98958010426

Status : Answered

Chosen Option : 2

Q.1 Identify the segment in the sentence, which contains the grammatical error.

53

To my point of view he should not have behaved in such a manner.

Ans 1. behaved

2. should not have

3. in such a manner

4. To my point of view

Question ID : 98958010389

Status : Answered

Chosen Option : 4

Q.1 Select the antonym of the given word.

54

VANITY

Ans 1. humility

2. timidity

3. dignity

4. pride

Question ID : 98958010415

Status : Answered

Chosen Option : 1

Q.1 Identify the segment in the sentence, which contains the grammatical error.

55

I thanked him for his advices.

Ans 1. for his

2. advices

3. him

4. I thanked

Question ID : 98958010386

Status : Answered

Chosen Option : 2

Q.1 Select the synonym of the given word.

56

REPLETE

Ans

- 1. occupied
- 2. full
- 3. calm
- 4. restful

Question ID : 98958010411
Status : Not Answered
Chosen Option : --

Q.1
57 Select the wrongly spelt word.

- Ans
- 1. dissappoint
 - 2. discomfort
 - 3. disallow
 - 4. disappear

Question ID : 98958010428
Status : Answered
Chosen Option : 1

Q.1
58 Select the most appropriate meaning of the underlined idiom in the given sentence.

A friend is no friend if he leaves you in the lurch.

- Ans
- 1. take advantage of someone
 - 2. make a fool of someone
 - 3. leave someone in a helpless condition
 - 4. leave for one's own work

Question ID : 98958010421
Status : Answered
Chosen Option : 3

Q.1
59 Select the most appropriate option to substitute the underlined segment in the given sentence. If there is no need to substitute it, select No substitution required.

Everybody wants to be winning a prize in the arts competition.

- Ans
- 1. No substitution required
 - 2. wants to win
 - 3. want winning
 - 4. wants to have won

Question ID : 98958010392
Status : Answered
Chosen Option : 2

Comprehension:

In the following passage, some words have been deleted. Fill in the blanks with the help of the alternatives given. Select the most appropriate option for each number.

What does the word scout mean? During a war a soldier is chosen to go _____ (1) of an army in order to _____ (2) out where the enemy is. He then _____ (3) back to the commander all the _____ (4) he has gathered about the _____ (5). Such a soldier is known as a scout.

SubQuestion No : 160

Q.1
60 Select the most appropriate option to fill in blank
No.1.

- Ans
- 1. behind
 - 2. after
 - 3. before
 - 4. ahead

Question ID : 98958010402

Status : Answered

Chosen Option : 4

Comprehension:

In the following passage, some words have been deleted. Fill in the blanks with the help of the alternatives given. Select the most appropriate option for each number.

What does the word scout mean? During a war a soldier is chosen to go _____ (1) of an army in order to _____ (2) out where the enemy is. He then _____ (3) back to the commander all the _____ (4) he has gathered about the _____ (5). Such a soldier is known as a scout.

SubQuestion No : 161

Q.1
61 Select the most appropriate option to fill in blank
No.2.

- Ans
- 1. carry
 - 2. find
 - 3. bring
 - 4. call

Question ID : 98958010403

Status : Answered

Chosen Option : 2

Comprehension:

In the following passage, some words have been deleted. Fill in the blanks with the help of the alternatives given. Select the most appropriate option for each number.

What does the word scout mean? During a war a soldier is chosen to go _____ (1) of an army in order to _____ (2) out where the enemy is. He then _____ (3) back to the commander all the _____ (4) he has gathered about the _____ (5). Such a soldier is known as a scout.

SubQuestion No : 162

Q.1
62 Select the most appropriate option to fill in blank
No.3.

- Ans
- 1. reports
 - 2. tells
 - 3. sends
 - 4. carries

Question ID : 98958010404

Status : Answered

Chosen Option : 1

Comprehension:

In the following passage, some words have been deleted. Fill in the blanks with the help of the alternatives given. Select the most appropriate option for each number.

What does the word scout mean? During a war a soldier is chosen to go _____ (1) of an army in order to _____ (2) out where the enemy is. He then _____ (3) back to the commander all the _____ (4) he has gathered about the _____ (5). Such a soldier is known as a scout.

SubQuestion No : 163

Q.1
63 Select the most appropriate option to fill in blank
No.4.

- Ans
- 1. communications
 - 2. news
 - 3. messages
 - 4. information

Question ID : 98958010405

Status : Answered

Chosen Option : 4

Comprehension:

In the following passage, some words have been deleted. Fill in the blanks with the help of the alternatives given. Select the most appropriate option for each number.

What does the word scout mean? During a war a soldier is chosen to go _____ (1) of an army in order to _____ (2) out where the enemy is. He then _____ (3) back to the commander all the _____ (4) he has gathered about the _____ (5). Such a soldier is known as a scout.

SubQuestion No : 164

Q.1
64 Select the most appropriate option to fill in blank No.5.

- Ans
- 1. army
 - 2. soldiers
 - 3. enemy
 - 4. commanders

Question ID : 98958010406
Status : Answered
Chosen Option : 3

Q.1
65 Select the most appropriate option to substitute the underlined segment in the given sentence. If there is no need to substitute it, select No substitution required.

This is the first time anybody have explored into this part of the country.

- Ans
- 1. No substitution required
 - 2. anybody have explored this part
 - 3. anybody has explored this part
 - 4. anybody has explored into this part

Question ID : 98958010393
Status : Answered
Chosen Option : 4

Q.1
66 Select the word, which means the same as the group of words given.

a medical specialist who administers drugs for relieving pain during surgery

- Ans
- 1. nephrologist
 - 2. dermatologist
 - 3. anesthetist
 - 4. analgesic

Question ID : 98958010425
Status : Answered
Chosen Option : 3

Q.1
67

Select the most appropriate word to fill in the blank.

You will not be allowed in the Film Festival _____ you have a photo ID card.

- Ans
- 1. whether
 - 2. unless
 - 3. in case
 - 4. if

Question ID : 98958010398

Status : Answered

Chosen Option : 2

Comprehension:

Read the following passage and answer the questions given after it.

Tutankhamun was an Egyptian pharaoh who was buried in a lavish tomb filled with gold artifacts in the Valley of the Kings. His tomb was discovered in 1922 by an archaeological team led by British Egyptologist Howard Carter.

The tomb was mostly intact, an extraordinary find given that most of the tombs in the Valley of the Kings had been looted in ancient times.

But while Tutankhamun's tomb was lavish, historical and archaeological evidence indicates that the young pharaoh was sickly and spent his short rule trying to undo a religious revolution that his father had started.

Tutankhaten (as he was called at birth) was born around the year 1341 B.C. His father was the pharaoh Akhenaten, a revolutionary pharaoh who tried to focus Egypt's polytheistic religion around the worship of the sun disc, the Aten. In his fervor, Akhenaten ordered the names and images of other Egyptian deities to be destroyed or defaced.

Tutankhamun ascended to the throne around 1332 B.C., when he was about 9 years old. Given his young age he would have relied heavily on his advisers. At some point his name was changed to Tutankhamun, removing the word "aten" — a reminder of his father's religious revolution — from his name.

Tutankhamun also condemned his father's actions in a stela (a stone with inscription) found at Karnak, saying that Akhenaten's religious revolution caused the gods to ignore Egypt. Part of the stela reads "the temples and the cities of the gods and the goddesses, starting from Elephantine as far as the Delta marshes ... were fallen into decay and their shrines were fallen into ruin, having become mere mounds overgrown with grass ... The gods were ignoring this land..."

Archaeological evidence indicates that Tutankhamun suffered from ill health. A study of his remains published in 2010 found that he suffered from a variety of maladies, including malaria and Kohler disease (a rare bone disorder of the foot). A number of canes have been found in Tutankhamun's tomb, finds that support the idea that the pharaoh had difficulty walking at times.

It's not known what killed Tutankhamun. There have been numerous hypotheses put forward over the years. It's been suggested that he died from an infection caused by a broken leg or from injuries suffered in a chariot accident.

The boy king died in 1323 B.C. around the age of 18. His death was unexpected, and his tomb appears to have been finished quickly. Microbes found on the wall of the tomb indicate that the paint on the wall wasn't even dry when the tomb was sealed.

Howard Carter's team discovered the tomb's entranceway on November 4, 1922, and on November 26 they got inside.

While the treasures were incredible, the tomb was unusually small for a pharaoh's burial, containing only 110 square meters (1,184 square feet) of floor space. The tomb's small size may have been because the pharaoh died young and unexpectedly and there wasn't time to carve out a larger tomb.

SubQuestion No : 168

Q.1
68 What is the main theme of the passage?

- Ans
- 1. The death of Tutankhamun and his burial
 - 2. The life and death of the boy Pharaoh
 - 3. The tomb of Tutankhamun
 - 4. The discovery of an incredible treasure

Question ID : 98958010433

Status : Answered

Chosen Option : 4

Comprehension:

Read the following passage and answer the questions given after it.

Tutankhamun was an Egyptian pharaoh who was buried in a lavish tomb filled with gold artifacts in the Valley of the Kings. His tomb was discovered in 1922 by an archaeological team led by British Egyptologist Howard Carter.

The tomb was mostly intact, an extraordinary find given that most of the tombs in the Valley of the Kings had been looted in ancient times.

But while Tutankhamun's tomb was lavish, historical and archaeological evidence indicates that the young pharaoh was sickly and spent his short rule trying to undo a religious revolution that his father had started.

Tutankhaten (as he was called at birth) was born around the year 1341 B.C. His father was the pharaoh Akhenaten, a revolutionary pharaoh who tried to focus Egypt's polytheistic religion around the worship of the sun disc, the Aten. In his fervor, Akhenaten ordered the names and images of other Egyptian deities to be destroyed or defaced.

Tutankhamun ascended to the throne around 1332 B.C., when he was about 9 years old. Given his young age he would have relied heavily on his advisers. At some point his name was changed to Tutankhamun, removing the word "aten" — a reminder of his father's religious revolution — from his name.

Tutankhamun also condemned his father's actions in a stela (a stone with inscription) found at Karnak, saying that Akhenaten's religious revolution caused the gods to ignore Egypt. Part of the stela reads "the temples and the cities of the gods and the goddesses, starting from Elephantine as far as the Delta marshes ... were fallen into decay and their shrines were fallen into ruin, having become mere mounds overgrown with grass ... The gods were ignoring this land..."

Archaeological evidence indicates that Tutankhamun suffered from ill health. A study of his remains published in 2010 found that he suffered from a variety of maladies, including malaria and Kohler disease (a rare bone disorder of the foot). A number of canes have been found in Tutankhamun's tomb, finds that support the idea that the pharaoh had difficulty walking at times.

It's not known what killed Tutankhamun. There have been numerous hypotheses put forward over the years. It's been suggested that he died from an infection caused by a broken leg or from injuries suffered in a chariot accident.

The boy king died in 1323 B.C. around the age of 18. His death was unexpected, and his tomb appears to have been finished quickly. Microbes found on the wall of the tomb indicate that the paint on the wall wasn't even dry when the tomb was sealed.

Howard Carter's team discovered the tomb's entranceway on November 4, 1922, and on November 26 they got inside.

While the treasures were incredible, the tomb was unusually small for a pharaoh's burial, containing only 110 square meters (1,184 square feet) of floor space. The tomb's small size may have been because the pharaoh died young and unexpectedly and there wasn't time to carve out a larger tomb.

SubQuestion No : 169

Q.1
69 The discovery of a number of canes in the tomb indicates that Tutankhamun:

- Ans
- 1. had difficulty in walking.
 - 2. had fallen from a chariot.
 - 3. suffered from an infection.
 - 4. suffered from Malaria.

Question ID : 98958010434

Status : Answered

Chosen Option : 1

Comprehension:

Read the following passage and answer the questions given after it.

Tutankhamun was an Egyptian pharaoh who was buried in a lavish tomb filled with gold artifacts in the Valley of the Kings. His tomb was discovered in 1922 by an archaeological team led by British Egyptologist Howard Carter.

The tomb was mostly intact, an extraordinary find given that most of the tombs in the Valley of the Kings had been looted in ancient times.

But while Tutankhamun's tomb was lavish, historical and archaeological evidence indicates that the young pharaoh was sickly and spent his short rule trying to undo a religious revolution that his father had started.

Tutankhaten (as he was called at birth) was born around the year 1341 B.C. His father was the pharaoh Akhenaten, a revolutionary pharaoh who tried to focus Egypt's polytheistic religion around the worship of the sun disc, the Aten. In his fervor, Akhenaten ordered the names and images of other Egyptian deities to be destroyed or defaced.

Tutankhamun ascended to the throne around 1332 B.C., when he was about 9 years old. Given his young age he would have relied heavily on his advisers. At some point his name was changed to Tutankhamun, removing the word "aten" — a reminder of his father's religious revolution — from his name.

Tutankhamun also condemned his father's actions in a stela (a stone with inscription) found at Karnak, saying that Akhenaten's religious revolution caused the gods to ignore Egypt. Part of the stela reads "the temples and the cities of the gods and the goddesses, starting from Elephantine as far as the Delta marshes ... were fallen into decay and their shrines were fallen into ruin, having become mere mounds overgrown with grass ... The gods were ignoring this land..."

Archaeological evidence indicates that Tutankhamun suffered from ill health. A study of his remains published in 2010 found that he suffered from a variety of maladies, including malaria and Kohler disease (a rare bone disorder of the foot). A number of canes have been found in Tutankhamun's tomb, finds that support the idea that the pharaoh had difficulty walking at times.

It's not known what killed Tutankhamun. There have been numerous hypotheses put forward over the years. It's been suggested that he died from an infection caused by a broken leg or from injuries suffered in a chariot accident.

The boy king died in 1323 B.C. around the age of 18. His death was unexpected, and his tomb appears to have been finished quickly. Microbes found on the wall of the tomb indicate that the paint on the wall wasn't even dry when the tomb was sealed.

Howard Carter's team discovered the tomb's entranceway on November 4, 1922, and on November 26 they got inside.

While the treasures were incredible, the tomb was unusually small for a pharaoh's burial, containing only 110 square meters (1,184 square feet) of floor space. The tomb's small size may have been because the pharaoh died young and unexpectedly and there wasn't time to carve out a larger tomb.

SubQuestion No : 170

Q.1
70 Tutankhamun's father was a revolutionary. What was his revolution?

- Ans
- 1. Images and names of all the Egyptian deities had to be destroyed.
 - 2. He wanted his people to be polytheistic.
 - 3. He wanted the Egyptians to worship one God – Aten.
 - 4. Egyptians were asked to have no religion and no god.

Question ID : 98958010435

Status : Answered

Chosen Option : 1

Comprehension:

Read the following passage and answer the questions given after it.

Tutankhamun was an Egyptian pharaoh who was buried in a lavish tomb filled with gold artifacts in the Valley of the Kings. His tomb was discovered in 1922 by an archaeological team led by British Egyptologist Howard Carter.

The tomb was mostly intact, an extraordinary find given that most of the tombs in the Valley of the Kings had been looted in ancient times.

But while Tutankhamun's tomb was lavish, historical and archaeological evidence indicates that the young pharaoh was sickly and spent his short rule trying to undo a religious revolution that his father had started.

Tutankhaten (as he was called at birth) was born around the year 1341 B.C. His father was the pharaoh Akhenaten, a revolutionary pharaoh who tried to focus Egypt's polytheistic religion around the worship of the sun disc, the Aten. In his fervor, Akhenaten ordered the names and images of other Egyptian deities to be destroyed or defaced.

Tutankhamun ascended to the throne around 1332 B.C., when he was about 9 years old. Given his young age he would have relied heavily on his advisers. At some point his name was changed to Tutankhamun, removing the word "aten" — a reminder of his father's religious revolution — from his name.

Tutankhamun also condemned his father's actions in a stela (a stone with inscription) found at Karnak, saying that Akhenaten's religious revolution caused the gods to ignore Egypt. Part of the stela reads "the temples and the cities of the gods and the goddesses, starting from Elephantine as far as the Delta marshes ... were fallen into decay and their shrines were fallen into ruin, having become mere mounds overgrown with grass ... The gods were ignoring this land..."

Archaeological evidence indicates that Tutankhamun suffered from ill health. A study of his remains published in 2010 found that he suffered from a variety of maladies, including malaria and Kohler disease (a rare bone disorder of the foot). A number of canes have been found in Tutankhamun's tomb, finds that support the idea that the pharaoh had difficulty walking at times.

It's not known what killed Tutankhamun. There have been numerous hypotheses put forward over the years. It's been suggested that he died from an infection caused by a broken leg or from injuries suffered in a chariot accident.

The boy king died in 1323 B.C. around the age of 18. His death was unexpected, and his tomb appears to have been finished quickly. Microbes found on the wall of the tomb indicate that the paint on the wall wasn't even dry when the tomb was sealed.

Howard Carter's team discovered the tomb's entranceway on November 4, 1922, and on November 26 they got inside.

While the treasures were incredible, the tomb was unusually small for a pharaoh's burial, containing only 110 square meters (1,184 square feet) of floor space. The tomb's small size may have been because the pharaoh died young and unexpectedly and there wasn't time to carve out a larger tomb.

SubQuestion No : 171

Q.1
71 Tutankhamun had a short rule. Most of his time was used in:

- Ans
- 1. trying to undo the religious revolution of his father
 - 2. fighting with his own diseases
 - 3. erecting stelas at different places
 - 4. looking after the well- being of his people

Question ID : 98958010436

Status : **Not Answered**

Chosen Option : --

Comprehension:

Read the following passage and answer the questions given after it.

Tutankhamun was an Egyptian pharaoh who was buried in a lavish tomb filled with gold artifacts in the Valley of the Kings. His tomb was discovered in 1922 by an archaeological team led by British Egyptologist Howard Carter.

The tomb was mostly intact, an extraordinary find given that most of the tombs in the Valley of the Kings had been looted in ancient times.

But while Tutankhamun's tomb was lavish, historical and archaeological evidence indicates that the young pharaoh was sickly and spent his short rule trying to undo a religious revolution that his father had started.

Tutankhaten (as he was called at birth) was born around the year 1341 B.C. His father was the pharaoh Akhenaten, a revolutionary pharaoh who tried to focus Egypt's polytheistic religion around the worship of the sun disc, the Aten. In his fervor, Akhenaten ordered the names and images of other Egyptian deities to be destroyed or defaced.

Tutankhamun ascended to the throne around 1332 B.C., when he was about 9 years old. Given his young age he would have relied heavily on his advisers. At some point his name was changed to Tutankhamun, removing the word "aten" — a reminder of his father's religious revolution — from his name.

Tutankhamun also condemned his father's actions in a stela (a stone with inscription) found at Karnak, saying that Akhenaten's religious revolution caused the gods to ignore Egypt. Part of the stela reads "the temples and the cities of the gods and the goddesses, starting from Elephantine as far as the Delta marshes ... were fallen into decay and their shrines were fallen into ruin, having become mere mounds overgrown with grass ... The gods were ignoring this land..."

Archaeological evidence indicates that Tutankhamun suffered from ill health. A study of his remains published in 2010 found that he suffered from a variety of maladies, including malaria and Kohler disease (a rare bone disorder of the foot). A number of canes have been found in Tutankhamun's tomb, finds that support the idea that the pharaoh had difficulty walking at times.

It's not known what killed Tutankhamun. There have been numerous hypotheses put forward over the years. It's been suggested that he died from an infection caused by a broken leg or from injuries suffered in a chariot accident.

The boy king died in 1323 B.C. around the age of 18. His death was unexpected, and his tomb appears to have been finished quickly. Microbes found on the wall of the tomb indicate that the paint on the wall wasn't even dry when the tomb was sealed.

Howard Carter's team discovered the tomb's entranceway on November 4, 1922, and on November 26 they got inside.

While the treasures were incredible, the tomb was unusually small for a pharaoh's burial, containing only 110 square meters (1,184 square feet) of floor space. The tomb's small size may have been because the pharaoh died young and unexpectedly and there wasn't time to carve out a larger tomb.

SubQuestion No : 172

Q.1
72 Which statement is NOT true according to the passage?

- Ans
- 1. The tomb was unusually small for a pharaoh's burial.
 - 2. Howard Carter's team discovered the tomb's entranceway on November 26, 1922.
 - 3. The tomb appears to have been finished quickly as the paint wasn't dry when it was sealed
 - 4. Tutankhamun's tomb was lavishly filled with gold artifacts.

Question ID : 98958010437

Status : Answered

Chosen Option : 2

Q.1
73 Select the most appropriate word to fill in the blank.

You have travelled a long way. You _____ be tired.

- Ans
- 1. should
 - 2. must
 - 3. can
 - 4. could

Question ID : 98958010396

Status : Answered

Chosen Option : 2

Q.1
74 Select the synonym of the given word.

HARASS

- Ans
- 1. care
 - 2. help
 - 3. refuse
 - 4. bother

Question ID : 98958010410

Status : Answered

Chosen Option : 4

Q.1
75 Select the word, which means the same as the group of words given.

the keeper of a museum

- Ans
- 1. conservator
 - 2. compere

- 3. curator
- 4. commissioner

Question ID : 98958010422
Status : Answered
Chosen Option : 3

Q.1
76 Select the antonym of the given word.

ADVERSITY

- Ans
- 1. misfortune
 - 2. casualty
 - 3. calamity
 - 4. prosperity

Question ID : 98958010414
Status : Answered
Chosen Option : 4

Q.1
77 Select the most appropriate meaning of the underlined idiom in the given sentence.

Many people in our country like to feather their own nest from the money they raise for social work.

- Ans
- 1. provide comforts in one's house
 - 2. make one's family comfortable
 - 3. achieve something and be proud of it
 - 4. enrich oneself by dishonest means

Question ID : 98958010420
Status : Answered
Chosen Option : 4

Q.1
78 Select the most appropriate meaning of the underlined idiom in the given sentence.

He has set up his business now as he knows the ins and outs of it.

- Ans
- 1. details
 - 2. usefulness
 - 3. importance
 - 4. difficulties

Question ID : 98958010418
Status : Answered
Chosen Option : 1

Q.1
79 Select the most appropriate option to substitute the underlined segment in the given sentence. If there is no need to substitute it, select No substitution required.

Thirteen miners were trapped inside a coal mine due to flooding from a nearby river yesterday.

- Ans
- 1. were trapped into a coal mine

- 2. trapped inside a coal mine
- 3. No substitution required
- 4. have been trapped inside a coal mine

Question ID : 98958010394
Status : Answered
Chosen Option : 2

Q.1
80 Identify the segment in the sentence, which contains the grammatical error.

The old man climbed seven floors with hardly no effort at all.

- Ans
- 1. climbed
 - 2. The old man
 - 3. at all
 - 4. hardly no effort

Question ID : 98958010390
Status : Answered
Chosen Option : 4

Q.1
81 Select the most appropriate option to substitute the underlined segment in the given sentence. If there is no need to substitute it, select No substitution required.

The cause of the disaster has not yet known but an enquiry has been set up to find out what happened.

- Ans
- 1. have not yet been known
 - 2. was not yet known
 - 3. No substitution required
 - 4. is not yet known

Question ID : 98958010395
Status : Answered
Chosen Option : 4

Q.1
82 Select the most appropriate meaning of the underlined idiom in the given sentence.

After getting the news of his promotion, he was in high spirits.

- Ans
- 1. mad
 - 2. drunk
 - 3. joyful
 - 4. hopeful

Question ID : 98958010417
Status : Answered
Chosen Option : 3

Q.1
83

Select the most appropriate word to fill in the blank.

I looked at my damaged car and _____ how much it would cost to repair it.

- Ans
- 1. wondered
 - 2. wonder
 - 3. wondering
 - 4. wonders

Question ID : 98958010400
Status : Answered
Chosen Option : 1

Q.1
84 Select the word, which means the same as the group of words given.

A large enclosure for keeping the birds in

- Ans
- 1. apiary
 - 2. aquarium
 - 3. aviary
 - 4. menagerie

Question ID : 98958010423
Status : Answered
Chosen Option : 3

Q.1
85 Select the wrongly spelt word.

- Ans
- 1. blemish
 - 2. blister
 - 3. blind
 - 4. blossom

Question ID : 98958010427
Status : Answered
Chosen Option : 4

Q.1
86 Select the synonym of the given word.

FOREGO

- Ans
- 1. give up
 - 2. forget
 - 3. ban
 - 4. go ahead

Question ID : 98958010408
Status : Answered
Chosen Option : 1

Q.1
87 Identify the segment in the sentence, which contains the grammatical error.

Why she was angry with her son?

- Ans
- 1. Why
 - 2. angry with
 - 3. her son
 - 4. she was

Question ID : 98958010387
Status : Answered
Chosen Option : 2

Q.1
88 Identify the segment in the sentence, which contains the grammatical error.

In this novel I came across some words which meaning I do not know.

- Ans
- 1. do not know
 - 2. In this novel
 - 3. which meaning
 - 4. came across

Question ID : 98958010388
Status : Answered
Chosen Option : 3

Q.1
89 Select the wrongly spelt word.

- Ans
- 1. curious
 - 2. precious
 - 3. victorious
 - 4. couragious

Question ID : 98958010431
Status : Not Answered
Chosen Option : --

Q.1
90 Select the wrongly spelt word.

- Ans
- 1. establish
 - 2. esteem
 - 3. estimate
 - 4. essencial

Question ID : 98958010430
Status : Not Answered
Chosen Option : --

91 Select the most appropriate meaning of the underlined idiom in the given sentence.

Don't take it seriously. He was simply pulling your leg.

- Ans
- 1. trying to comfort someone
 - 2. scolding someone for nothing
 - 3. playing a joke with someone
 - 4. speaking in a harsh tone

Question ID : 98958010419
Status : Answered
Chosen Option : 3

Q.1
92 Select the word, which means the same as the group of words given.

a person who eats human flesh

- Ans
- 1. scavenger
 - 2. tribal
 - 3. carnivore
 - 4. cannibal

Question ID : 98958010424
Status : Answered
Chosen Option : 3

Q.1
93 Select the most appropriate option to substitute the underlined segment in the given sentence. If there is no need to substitute it, select No substitution required.

Every year our association is having a meeting to elect the officers.

- Ans
- 1. No substitution required
 - 2. has a meeting
 - 3. are having a meeting
 - 4. having a meeting

Question ID : 98958010391
Status : Answered
Chosen Option : 4

Q.1
94 Select the most appropriate word to fill in the blank.

Our new office is equipped _____ all the latest technology.

- Ans
- 1. by
 - 2. with
 - 3. from
 - 4. about

Question ID : 98958010397

Status : **Answered**
Chosen Option : 2

Q.1 Select the most appropriate word to fill in the blank.

95

The assistant in the library picked up the books from the tables and put _____ back on the shelves.

Ans

- 1. its
- 2. them
- 3. it
- 4. they

Question ID : **98958010399**
Status : **Answered**
Chosen Option : 2

Q.1 Select the synonym of the given word.

96

MASSIVE

Ans

- 1. huge
- 2. strong
- 3. solid
- 4. thick

Question ID : **98958010407**
Status : **Answered**
Chosen Option : 1

Q.1 Select the antonym of the given word.

97

LIVELY

Ans

- 1. sluggish
- 2. active
- 3. bubbly
- 4. sharp

Question ID : **98958010413**
Status : **Answered**
Chosen Option : 1

Q.1 Select the wrongly spelt word.

98

Ans

- 1. gobbel
- 2. gloss
- 3. glutton
- 4. gloomy

Question ID : 98958010429
Status : Not Answered
Chosen Option : --

Q.1
99 Select the antonym of the given word.

ENTHUSIASM

- Ans
- 1. fervor
 - 2. zeal
 - 3. apathy
 - 4. nervousness

Question ID : 98958010416
Status : Not Answered
Chosen Option : --

Q.2
00 Select the antonym of the given word.

HOLLOW

- Ans
- 1. solid
 - 2. narrow
 - 3. vacant
 - 4. shallow

Question ID : 98958010412
Status : Not Answered
Chosen Option : --